


Schraubendreher



Dieses Werkzeug ist der **Schraubendreher**.




Das Symbol für den Schraubendreher

Der Schraubendreher hat 3 Bereiche:


1. das Heft (den Griff)
2. die Klinge
3. die Schneide



Beim Umgang mit dem **Schraubendreher** ist darauf zu achten, dass die Schneide die *gleiche* Größe hat wie der Schraubenschlitz.




falsch
Schneide zu klein



richtig
Schneide und Schlitz gleich groß

Aufgaben



Welches Werkzeug gehört zu diesem Symbol?
(Das richtige Werkzeug ankreuzen)

- Die Flachzange
- Der Seitenschneider
- Der Schraubendreher

Bei der Wahl des Schraubendrehers achte ich auf
(Das Richtige bitte ankreuzen)

- die Farbe des Griffes
- die Größe des Schraubenschlitzes
- das Material der Schraube